



سازمان ملی پرورش استعداد های درخشان



جمهوری اسلامی ایران
وزارت آموزش و پرورش

آزمون ورودی پایه ی، هفتم

مدارس استعداد های درخشان

سراسر کشور در سال تحصیلی ۰۵-۱۴۰۴

دفترچه ی شماره ی دو: استعداد تحلیلی

سؤالات این دفترچه ساده هستند و با هدف سنجش سرعت و دقت شما طراحی شده اند. از ۲۵ دقیقه زمان خود برای پاسخ گویی به ۶۰ پرسش به درستی استفاده کنید.



نام و نام خانوادگی:

تاریخ برگزاری آزمون: پنجشنبه ۲۹ / ۰۳ / ۱۴۰۴

ساعت برگزاری آزمون: ۸:۰۰ صبح

تعداد صفحات دفترچه: ۸ صفحه

تعداد پرسش های دفترچه: ۶۰ سؤال (ردیف ۶۱ تا ۱۲۰)

مدت پاسخ گویی به پرسش ها: ۲۵ دقیقه

تذکر مهم: به ازای هر پاسخ صحیح، «۳» نمره ی مثبت و به ازای هر پاسخ غلط، «۱» نمره ی منفی برای داوطلب در نظر گرفته می شود. برای پرسش های بدون پاسخ، نمره ای در نظر گرفته نمی شود. چنانچه داوطلب در هر پرسش بیش از یک گزینه را علامت زده باشد، «۱» نمره ی منفی برای او در نظر گرفته می شود.

چاپ، تکثیر و هرگونه استفاده ی دیگر از محتوای این دفترچه، صرفاً در صورت اخذ موافقت سازمان ملی پرورش استعداد های درخشان مجاز خواهد بود.



umins
سیستم جهانی پرورش
هوش های چندگانه آریا

پرسش‌های استعداد تحلیلی: پاسخ صحیح پرسش‌های زیر را از میان جواب‌های پیشنهاد شده انتخاب کنید و شماره‌ی آن را در پاسخ‌برگ، از ردیف «۶۱» تا «۱۲۰» علامت بزنید.

در هر یک از سؤالات «۶۱» تا «۶۵» کدام گزینه با بقیه فرق دارد؟

۶۱-

- ① شهید دکتر مصطفی چمران در تاریخ ۳۱ خرداد ۱۳۶۱ به فیض شهادت نائل آمد.
- ② شهید دکتر مصطفی چمران در تاریخ ۳۱ خرداد ۱۳۶۱ به فیض شهادت نائل آمد.
- ③ شهید دکتر مصطفی چمران در تاریخ ۳۱ خرداد ۱۳۶۱ به فیض شهادت نائل آمد.
- ④ شهید دکتر مصطفی چمران در تاریخ ۳۱ خرداد ۱۳۶۱ به فیض شهادت نائل آمد.

۶۲-

- ① کریستف کلمب یا کریستوبال کولن (زاده ۳۱ اکتبر ۱۴۵۱ - درگذشته ۲۰ مه ۱۵۰۶) کاشف و دریانورد ایتالیایی بود.
- ② کریستف کلمب یا کریستوبال کولن (زاده ۳۱ اکتبر ۱۴۵۱ - درگذشته ۲۰ مه ۱۵۰۶) کاشف و دریانورد ایتالیایی بود.
- ③ کریستف کلمب یا کریستوبال کولن (زاده ۳۱ اکتبر ۱۴۵۱ - درگذشته ۲۰ مه ۱۵۰۶) کاشف و دریانورد ایتالیایی بود.
- ④ کریستف کلمب یا کریستوبال کولن (زاده ۲۱ اکتبر ۱۴۵۱ - درگذشته ۲۰ مه ۱۵۰۶) کاشف و دریانورد ایتالیایی بود.

۶۳-


- ① روز معلم در ۱۲ اردیبهشت هر سال، در همه‌ی مدارس ایران عزیز، گرامی داشته می‌شود.
- ② روز معلم در ۱۲ اردیبهشت هر سال، در همه‌ی مدارس ایران عزیز؛ گرامی داشته می‌شود.
- ③ روز معلم در ۱۲ اردیبهشت هر سال، در همه‌ی مدارس ایران عزیز، گرامی داشته می‌شود.
- ④ روز معلم در ۱۲ اردیبهشت هر سال، در همه‌ی مدارس ایران عزیز، گرامی داشته می‌شود.

۶۴-

- | | |
|------------------------|----------------------|
| ① چون بادب و تمیز باشی | نرد همه کس عزیز باشی |
| ② چون بادب و تمیز باشی | نزد همه کس عزیز باشی |
| ③ چون بادب و تمیز باشی | نزد همه کس عزیز باشی |
| ④ چون بادب و تمیز باشی | نزد همه کس عزیز باشی |

۶۵-

- ① چه بسا چیزی را دوست ندارید، در حالی که آن به سود شماست.
- ② چه بسا چیزی را دوست ندارید، در حالی که آن به سود شماست.
- ③ چه بسا چیزی را دوست ندارید، در حالی که آن به سود شماست.
- ④ چه بسا چیزی را دوست ندارید، در حالی که آن به سود شماست.



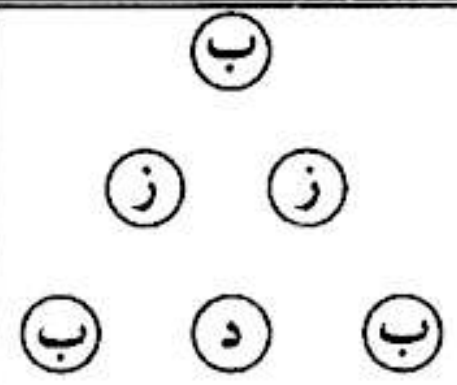
در هر یک از سوالات «۶۶» تا «۷۰» با جایگزین کردن کدام کلمه در جای خالی، عبارت خوش‌آهنگ‌تری به دست می‌آید؟

- ۶۶- همه کس را عقل خود به کمال نماید و فرزند خود به
 ① جمال ② فضیلت ③ عقل ورزی ④ گمان
- ۶۷- دو کس دشمن ملک و دین‌اند: پادشاه بی‌حلم و زاهد
 ① بی‌علم ② بی‌دین ③ بی‌وجدان ④ بی‌اخلاق
- ۶۸- الهی! نام تو ما را جواز و مهر تو ما را
 ① جمال ② کمال ③ راه ④ جهاز
- ۶۹- تلخ را چه سود اگر آب خوش در جوار است؟ و خار را چه حاصل از آن که بوی گل در است؟
 ① خیلی ② کنار ③ خوب ④ عالی
- ۷۰- باران رحمت بی‌حسابش همه را رسیده و خوان نعمت بی‌دریغش همه جا
 ① می‌آید ② پهن است ③ کشیده ④ است

در هر یک از سوالات «۷۱» تا «۷۵» کلمه‌ی خواسته‌شده را بیابید و حرف اول آن را در بین گزینه‌ها انتخاب کنید.

- ۷۱- کلمه‌ای ۴ حرفی به معنای «کلمه و لغت»
 ① ن ② و ③ ه ④ ی
- ۷۲- کلمه‌ای ۴ حرفی به معنای «بیرق، درفش، رایت، علامت و نشان»
 ① الف ② ب ③ پ ④ ت
- ۷۳- کلمه‌ای ۵ حرفی به معنای «خشوع، خضوع و فروتنی»
 ① الف ② ب ③ پ ④ ت
- ۷۴- کلمه‌ای ۶ حرفی به معنای «احتراز، امتناع و پرهیز»
 ① الف ② ب ③ پ ④ ت
- ۷۵- کلمه‌ای ۴ حرفی به معنای «ریسمان، طناب، بند»
 ① م ② ل ③ گ ④ ک

با توجه به شکل داده‌شده، به هر یک از سوالات «۷۶» تا «۸۰» پاسخ دهید.

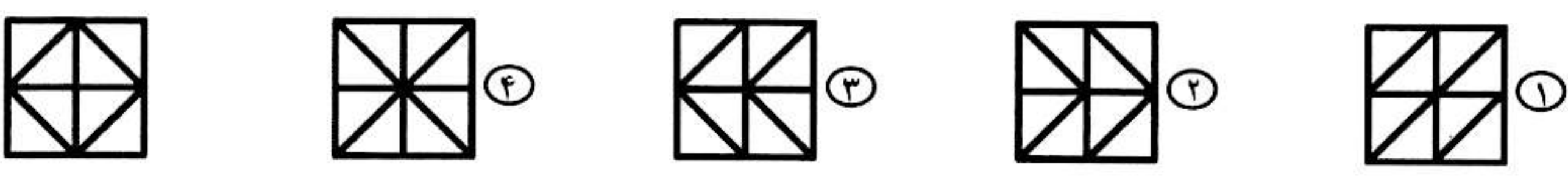


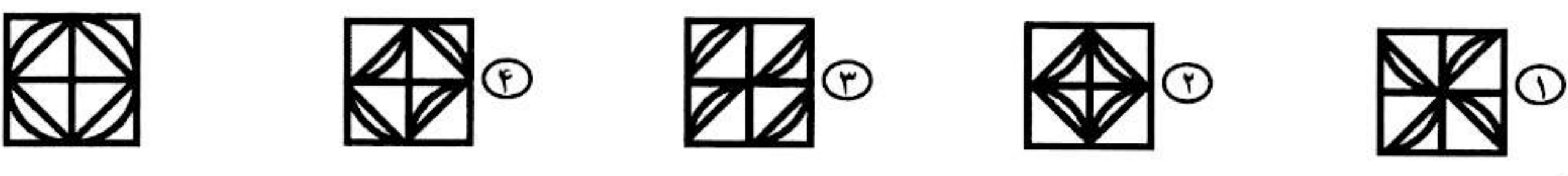
- ۷۶- چند مثلث متساوی‌الاضلاع با رأس‌هایی از بین دایره‌ها وجود دارد، طوری که روی رأس‌های مثلث، سه حرف مختلف نوشته باشد؟
 ① ۱ ② ۲ ③ ۳ ④ ۴
- ۷۷- چند مثلث با رأس‌هایی از بین دایره‌ها وجود دارد، طوری که روی رأس‌های مثلث، سه حرف یکسان نوشته باشد؟
 ① ۱ ② ۲ ③ ۳ ④ ۴
- ۷۸- چند چهارضلعی با رأس‌هایی از بین دایره‌ها وجود دارد، طوری که هر سه حرف در رأس‌های چهارضلعی موجود باشد؟
 ① ۱ ② ۲ ③ ۳ ④ ۴
- ۷۹- چند مثلث با رأس‌هایی از بین دایره‌ها وجود دارد، طوری که روی رأس‌های مثلث، سه حرف مختلف نوشته شده باشد؟
 ① ۵ ② ۶ ③ ۳ ④ ۴
- ۸۰- چند مثلث متساوی‌الاضلاع با رأس‌هایی از بین دایره‌ها وجود دارد، طوری که هر سه حرف روی رأس‌های مثلث، یکسان نباشند؟
 ① ۵ ② ۶ ③ ۳ ④ ۴

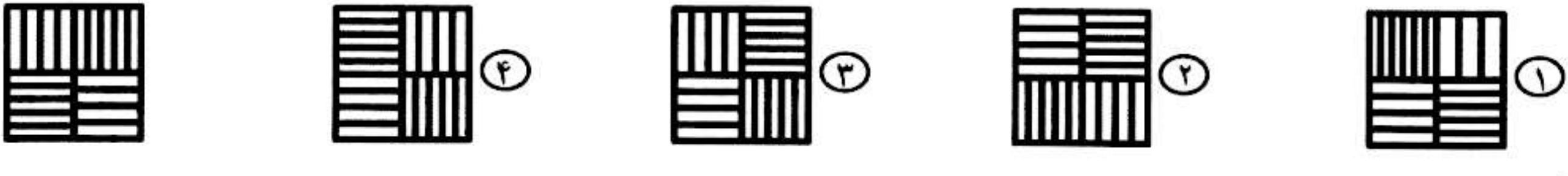


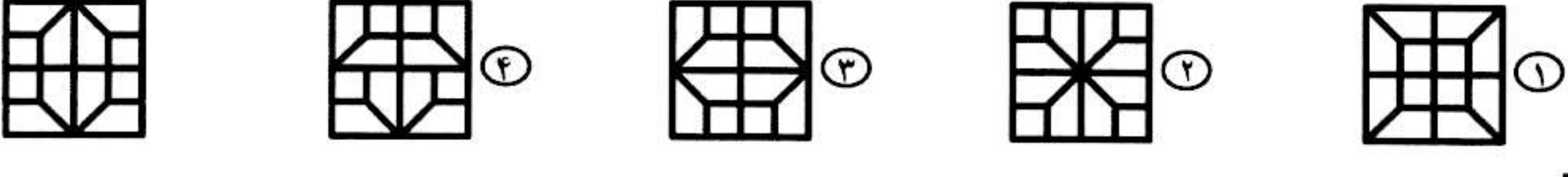
الف	ب
ج	د

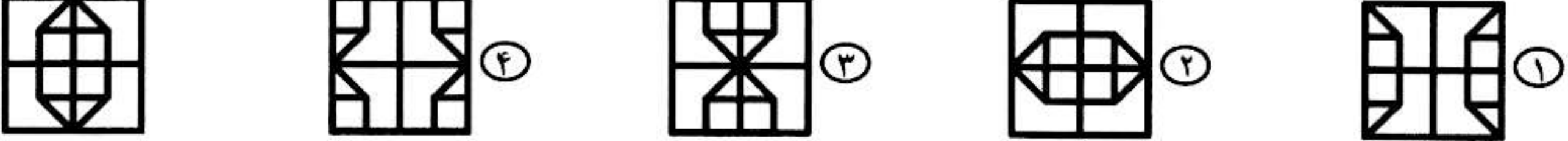
در هر یک از سوالات «۸۱» تا «۸۵»، شکل اصلی (مانند مثال) از چهار بخش مربع شکل تشکیل شده است، گزینه‌ای را انتخاب کنید که با جابه‌جا شدن مربع‌های شکل اصلی، بدون چرخاندن آن‌ها، ساخته نمی‌شود.

۸۱- 

۸۲- 

۸۳- 


۸۴- 

۸۵- 

!	!	%	^	#	!	%	#
^	%	#	!	%	*	!	*
#	*	+	%	*	#	^	%
!	*	#	!	^	^	*	!
%	+	*	#	%	!	%	*
#	!	%	*	+	*	#	+
^	*	#	^	!	*	*	^
!	+	*	%	*	%	#	!

با توجه به تعداد هر یک از علامت‌ها در جدول داده‌شده، به سوالات «۸۶» تا «۹۰» پاسخ دهید.

- ۸۶- تعداد علامت‌های ! چند است؟
 ۱۰ (۱) ۱۱ (۲) ۱۲ (۳) ۱۳ (۴)
- ۸۷- تعداد علامت‌های # چند است؟
 ۱۰ (۱) ۱۱ (۲) ۱۲ (۳) ۱۳ (۴)
- ۸۸- تعداد علامت‌های % چندتا از تعداد علامت‌های ! کمتر است؟
 ۱ (صفر) ۱ (۲) ۲ (۳) ۳ (۴)
- ۸۹- تعداد علامت‌های * چندتا از تعداد علامت‌های + بیشتر است؟
 ۱۰ (۱) ۱۱ (۲) ۱۲ (۳) ۱۳ (۴)
- ۹۰- مجموع تعداد علامت‌های ^ و # چند است؟
 ۱۸ (۱) ۱۹ (۲) ۲۰ (۳) ۲۱ (۴)



در سوالات «۱۰۶» تا «۱۱۰»، گزینه‌ای را بیاید که شامل عدد داده‌شده نباشد.

به عنوان مثال: ۱۲۳۴۵۶۷۸۹۱۰۱۱۱۲۱۱۳۱۴۱۵۱۶۱۷۱۸۱۹۲۰۲۱۲۲۲۳۲۴۲۵۲۶۲۷۲۸۲۹ شامل عدد ۴۶۷۸۹ نیست.

۱۰۶ - عدد ۴۵۸۷۳

- ① ۳۲۴۵۶۷۹۷۶۵۴۳۲۹۸۱۴۳۲۳۴۵۶۷۲۹۷۶۵۳۲۲۵۷۱۹۸۷۱۵۳
- ② ۴۶۵۳۴۵۸۷۳۶۶۵۴۶۵۳۴۲۲۱۹۵۶۷۸۹۹۰۰۶۷۶۶۵۷۴۵۳۸۳۷۵۳۴۲۳۱۴
- ③ ۴۳۲۵۲۴۲۵۳۷۳۸۳۷۵۲۳۱۲۴۳۵۶۴۶۷۳۹۸۷۶۵۴۳۲۱۲۳۴۵۸۷۳۶۷۸۹۴
- ④ ۱۲۳۴۵۶۷۸۹۸۷۶۵۴۳۲۱۳۴۵۶۷۸۹۰۹۸۷۶۵۴۵۸۷۳۲۱۱۴۷۹۱۴۳۱۱

۱۰۷ - عدد ۵۳۴۵۳۴

- ① ۳۱۲۳۴۵۳۴۵۳۴۶۶۳۲۶۳۲۷۱۲۳۸۱۲۳۲۳۴۴۲۲۴۵۸۷۳۲۳۴۳۲۵
- ② ۷۵۶۴۶۵۳۴۵۳۷۶۶۵۴۶۵۳۴۵۳۴۲۲۱۹۹۰۰۶۷۶۶۵۷۴۵۳۸۳۷۵۳۴۲۳۱۴
- ③ ۳۲۴۵۳۴۵۶۲۳۲۱۵۲۳۴۲۳۴۵۳۶۴۵۸۷۳۴۵۶۰۹۲۷۳۴۳۲۵۶۱۲۳۱۴
- ④ ۳۳۵۴۳۶۴۵۸۷۳۳۲۴۵۱۳۴۵۳۴۵۳۴۱۵۲۳۴۹۲۳۴۵۳۴۵۶۴۱۲۴۸۶۷۴۵

۱۰۸ - عدد ۳۲۶۴۳۷


- ① ۳۱۲۳۴۵۳۴۵۳۴۶۶۳۲۶۳۲۷۱۲۳۸۱۲۳۲۳۴۴۲۲۴۵۸۷۳۲۳۴۳۲۵
- ② ۷۵۶۴۶۵۳۴۵۳۷۶۶۵۴۶۵۳۴۲۲۱۳۲۶۴۳۷۶۵۷۴۵۳۸۳۷۵۳۴۲۳۱۴
- ③ ۳۲۴۵۳۴۵۶۲۳۲۱۵۲۳۴۲۳۴۵۳۶۴۵۳۲۶۴۳۷۰۹۲۷۳۴۳۲۵۶۱۲۳۱۴
- ④ ۳۳۵۸۷۴۲۶۷۸۴۳۶۴۵۸۷۳۳۲۴۵۱۳۴۱۵۲۳۴۹۲۳۴۵۳۴۵۶۴۱۲۴۸۶۷۴۵۴۳۷

۱۰۹ - عدد ۴۳۲۶۷۸

- ① ۳۱۲۳۴۵۳۴۵۳۴۶۶۹۸۷۶۳۴۵۴۳۲۶۷۸۱۲۳۲۳۴۴۲۲۴۵۸۷۳۲۳۴۳۲۵
- ② ۷۵۶۴۶۵۳۴۵۳۷۶۶۸۷۶۶۵۴۳۶۷۸۹۴۳۲۶۷۸۴۵۳۸۳۷۵۳۴۲۳۱۴
- ③ ۳۲۴۵۳۴۵۶۲۳۲۱۵۲۳۴۲۳۴۵۳۶۴۵۸۷۳۴۵۶۰۹۲۷۳۴۳۲۵۶۱۲۳۱۴
- ④ ۳۳۵۸۷۴۲۶۷۸۴۳۶۴۵۸۷۳۳۲۸۷۵۲۳۴۳۲۶۷۸۹۲۳۴۵۳۴۵۶۴۱۲۴۸۶۷۴۵

۱۱۰ - عدد ۱۳۵۷۹۶

- ① ۳۱۲۳۴۵۳۴۵۳۴۶۶۹۱۳۵۷۹۶۲۶۷۸۱۲۳۲۳۴۴۲۲۴۵۸۷۳۲۳۴۳۲۵
- ② ۷۵۶۴۶۵۳۴۵۳۷۶۶۸۷۶۶۵۴۳۶۷۸۹۴۳۲۶۷۸۴۵۳۸۳۷۵۳۴۲۳۱۴
- ③ ۳۲۴۵۳۴۵۶۲۳۲۱۵۲۳۱۳۵۷۹۶۴۵۸۷۳۴۵۶۰۹۲۷۳۴۳۲۵۶۱۲۳۱۴
- ④ ۳۳۵۸۷۴۴۵۸۷۳۳۲۸۷۵۲۳۴۳۱۳۵۷۹۶۲۳۴۵۳۴۵۶۴۱۲۴۸۶۷۴۵



سیرماہ کڈاری برای تولیہ سال ۱۴۰۴

بنیان کڈار کبیر جمهوری اسلامی، حضرت امام خمینی (قدس سرہ)

مادر شرایط جنگ و محاصره توانسته ایم آن همه ہنر آفرینی و اختراعات و پیشرفت ہا داشته باشیم.
ان شاء... در شرایط بہتر، زمینہ کافی برای رشد استعداد و تحقیقات را در ہمہ امور فراهم می سازیم.
مبارزہ علمی برای جوانان، زندہ کردن روح جستجو و کشف واقعیت ہا و حقیقت ہاست.

رہبر معظم انقلاب اسلامی، حضرت آیت... خامنہ ای (مدظہ العالی)

آن کسی کہ توانایی یادگیری بیشتری دارد بہ او بیشتر یاد داون، این عدالت است.
اگر آن کسی کہ توانایی یادگیری بیشتر دارد شاہ بہ او کمتر یاد داید خلاف عدالت رفتار کردہ اید.

